

								044	不計分
								045	A
								046	A
								047	B
								048	D
								049	C
								050	C
								051	C
								052	B
								053	D
								054	D
								055	D
								056	B
								057	A
								058	D
								059	A
								060	C

第二部分：非電腦讀卡部分

國文科

一、國字注音：10%（每題1分）

1	2	3	4	5	6	7	8	9	10
篡	驟	祿	嘶	慙	去一、	尸又、	一、	厂弓、	ㄅ

二、解釋：20%（每題2分，錯字每個扣1分）

1	撲朔：跳躍的樣子。	6	傍地「走」：跑。
2	弔詭：因矛盾而導致無法理解的情形。	7	願為「市」鞍馬：買。
3	不時之需：隨時的需用。	8	「遐」思：遙遠。
4	戰戰兢兢：恐懼而謹慎小心的樣子。	9	卿「復」誰：又。
5	野人獻曝：平凡人所能貢獻的平凡事物。	10	共「迭」相擔：輪流。

三、課文默寫：10%（每字0.5分，扣完為止）

萬里赴戎機，關山度若飛。朔氣傳金柝，寒光照鐵衣。
將軍百戰死，壯士十年歸。歸來見天子，天子坐明堂。
策勳十二轉，賞賜百千強。

英語科

43. 請記住：坐而言不如起而行。

答：Please keep this in mind: / Please remember this: Actions speak louder than words.

44. 第一天，他們去浮潛而且看到海裡有很多美麗的魚在游泳。

答：On the first day, they went snorkeling and saw many pretty/beautiful fish swimming in the sea.

45. 我們必需幫助自己，也必需幫助別人。

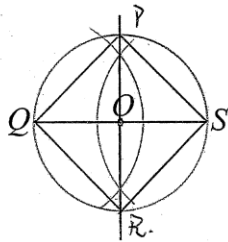
答：We should/ must/ need to/ have to help ourselves, and help others/ other people/ , too./ as well.

數學科

二、繪圖題：20%請用尺規作圖(禁止用為作法，不保留作圖痕跡不可分)

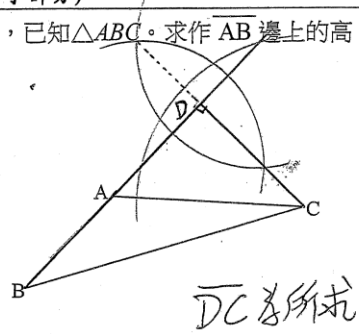
(一) 如下圖，已知 \overline{QS} ， O 為 \overline{QS} 的中點，求作正方形 $PQRS$ (4%)

畫對才給分



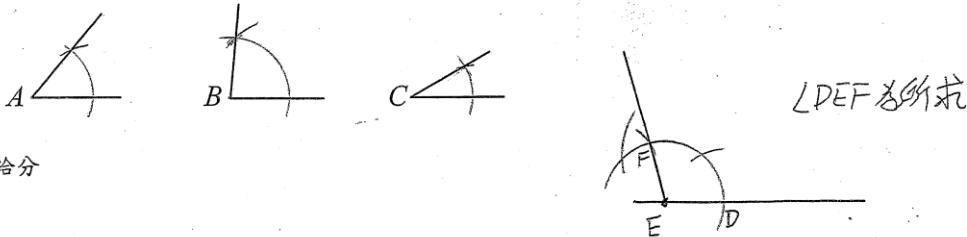
(二) 如下圖，已知 $\triangle ABC$ 。求作 AB 邊上的高。(4%)

畫對才給分



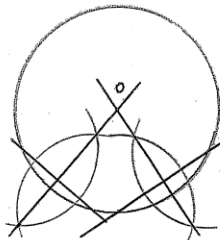
(三) 如下圖，已知 $\angle A$ 、 $\angle B$ 、 $\angle C$ ，試畫出 $\angle DEF$ ，使 $\angle DEF = \angle A + \angle B - \angle C$ (4%)

畫對才給分



(四) 請於下方圓弧中，利用尺規作圖將圓心找出，並把圓畫出來。(4%)

利用尺規作圖找出圓心 3%
劃出完整圓 1%



(五) 以尺規作圖試作一角等於 30° ，繪圖過程不可使用量角器。(4%)

作出 30° 才給分

1. 作正三角形 60° ，再作角平分線得 30°
2. 作垂直線 90° ，再作正三角 60° ，相減得 30°
3. 作垂直線 90° ，再作三分角線得 30°
4. 其他作法由改題老師自行判斷給分

